

Inhaltsverzeichnis

| | |
|--|----|
| 1. Probearbeit Deutschland und die Welt nach 1945 | 5 |
| 2. Probearbeit Eine Welt | 11 |
| 3. Probearbeit Der weltpolitische Wandel nach 1970 | 15 |
| 4. Probearbeit Globale Zusammenarbeit für Sicherheit und Frieden/Menschen aus anderen Herkunftsländern | 19 |
| 5. Probearbeit China | 23 |

Notenschlüssel

Regel-Klassen

| | | | |
|------|---|------|---|
| 50,0 | - | 45,5 | 1 |
| 45,0 | - | 38,5 | 2 |
| 38,0 | - | 30,5 | 3 |
| 30,0 | - | 20,5 | 4 |
| 20,0 | - | 10,5 | 5 |
| 10,0 | - | 0 | 6 |

| | | | |
|------|---|------|---|
| 90,0 | - | 80,5 | 1 |
| 80,0 | - | 68,5 | 2 |
| 68,0 | - | 54,5 | 3 |
| 54,0 | - | 36,5 | 4 |
| 36,0 | - | 18,5 | 5 |
| 18,0 | - | 0 | 6 |

Mittlere-Reife-Klassen

| | | | |
|------|---|------|---|
| 50,0 | - | 47,5 | 1 |
| 47,0 | - | 42,5 | 2 |
| 42,0 | - | 35,5 | 3 |
| 35,0 | - | 25,5 | 4 |
| 25,0 | - | 15,5 | 5 |
| 15,0 | - | 0 | 6 |

| | | | |
|------|---|------|---|
| 90,0 | - | 85,5 | 1 |
| 85,0 | - | 76,5 | 2 |
| 76,0 | - | 63,5 | 3 |
| 63,0 | - | 45,5 | 4 |
| 45,0 | - | 27,5 | 5 |
| 27,0 | - | 0 | 6 |

GSE

Name: _____

Datum: _____

Probearbeit**Deutschland und die Welt nach 1945 (1)**


1. Wie war die Situation in Deutschland nach 1945? Die beiden Bilder helfen dir bei der Beantwortung. (4 P.)



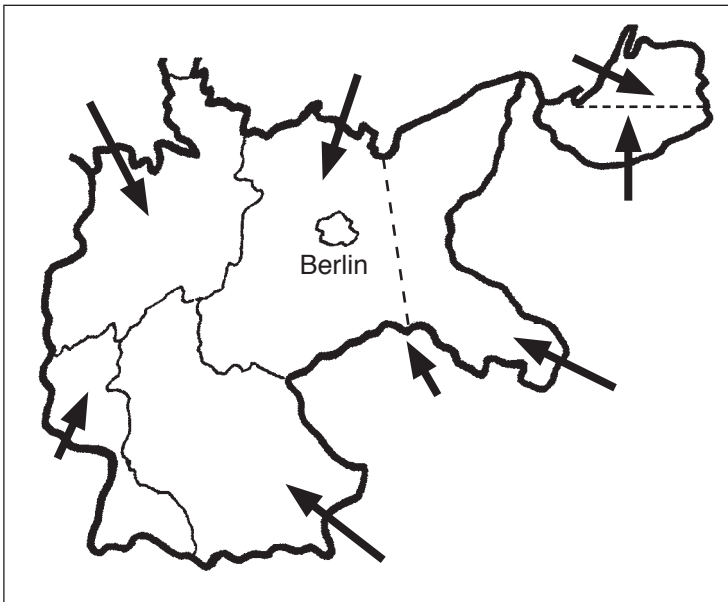
2. Im Potsdamer Vertrag wurden die Vereinbarungen für Deutschland von Truman (USA), Churchill (Großbritannien) und Stalin (Sowjetunion) festgelegt. Setze die fehlenden Begriffe ein. (7 P.)

- ① Festlegung der deutschen O _____ an der Linie zur O _____ und N _____
 ② Ausweisung der deutschen Bevölkerung aus O _____ (Flucht und Vertreibung)
 ③ Durchführung der Ent _____ und Ent _____
 ④ Festlegung der R _____ zahlungen und Einrichtung des alliierten Kontrollrates

3. Was will die Karikatur rechts aussagen? Nenne dazu einige Probleme. (4 P.)



4. Wie wurde Deutschland nach dem Zweiten Weltkrieg aufgeteilt? Beschrifte die in der Karte dargestellte Aufteilung bei den Pfeilen. Die gestrichelte Linie ist eine Grenzlinie. Wie hieß sie? (8 P.)



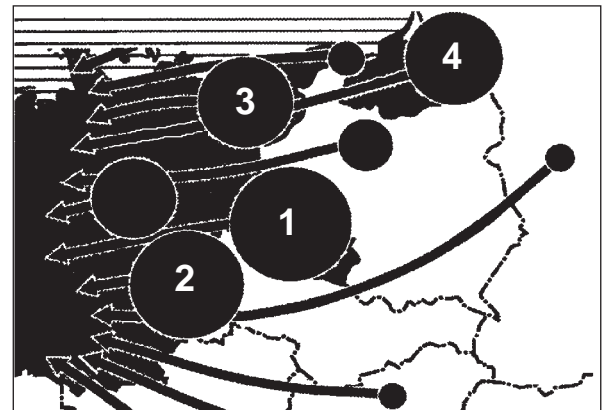
5. Was geschah mit Berlin? (1 P.)

6. Wie viele Menschen verloren nach dem Ende des Krieges ihre Heimat? (1 P.)

- 14 Mio. 20 Mio. 30 Mio.

Wie viele Menschen starben dabei? (1 P.)

- 4 Mio. 2 Mio. 1 Mio.



7. Nenne die vier Länder mit den größten Flüchtlingsgruppen. Betrachte dabei die Karte rechts. (2 P.)

8. Was fand wo von November 1945 bis Oktober 1946 statt? (2 P.)